

SERVENTE

Escreva seu nome e número de inscrição de forma legível nos locais indicados:

Nome do(a) Candidato(a)

Nº de inscrição

--	--

Este caderno de questões está assim constituído:

DISCIPLINAS	Nº QUESTÕES
Português	10
Matemática	10
Conhecimentos Gerais e Específicos	10
Total de questões	30

INSTRUÇÕES:

- Confira devidamente o material (CARTÃO DE RESPOSTAS e CADERNO DE QUESTÕES); se houver falha, solicite a substituição ao fiscal.
- Após conferir seus dados no cartão de respostas (NOME, Nº da INSCRIÇÃO e CARGO), assine no local indicado.
- O CARTÃO DE RESPOSTAS é o único documento de correção, devendo ser preenchido com bastante atenção, à caneta esferográfica, azul ou preta, ponta grossa, marcando uma única alternativa em cada questão.
- Verifique no cartão de respostas as instruções para preenchimento. Não rasure, não amasse nem dobre o CARTÃO DE RESPOSTAS; evite usar borracha. É vedada a substituição do CARTÃO DE RESPOSTAS decorrente de erro cometido por candidato.
- Se o CARTÃO DE RESPOSTAS contiver maior número de alternativas e/ou de questões, preencha apenas as correspondentes à sua prova; as demais ficam em branco.
- Durante a realização da prova, não é permitida a comunicação entre candidatos nem a utilização de máquina calculadora e/ou similares, livros, anotações, réguas de cálculo, impressos ou qualquer outro material de consulta.
- O tempo de duração da prova objetiva será de **até 3 horas**, incluído o tempo para preenchimento do cartão de respostas.
- Ao final dos trabalhos, **DEVOLVA** ao Fiscal da sala, juntamente com o CARTÃO DE RESPOSTAS devidamente preenchido e assinado, o CADERNO DE QUESTÕES, tendo em vista a obrigatoriedade de arquivo no Município.
- A parte destacável no final desta capa, que serve para copiar as suas respostas, somente poderá ser destacada no ato da entrega do material na mesa do fiscal.
- Os três últimos candidatos de cada sala de prova deverão permanecer no recinto, a fim de acompanhar os fiscais até a coordenação para o lacre dos envelopes, quando, então, poderão retirar-se do local, simultaneamente, após concluído.
- Direitos autorais reservados à Objetiva Concursos Ltda. Proibida a reprodução, ainda que parcial, sem autorização prévia.



(dobre e destaque esta parte para copiar suas respostas)

01	<input type="checkbox"/>	02	<input type="checkbox"/>	03	<input type="checkbox"/>	04	<input type="checkbox"/>	05	<input type="checkbox"/>	06	<input type="checkbox"/>	07	<input type="checkbox"/>	08	<input type="checkbox"/>	09	<input type="checkbox"/>	10	<input type="checkbox"/>
11	<input type="checkbox"/>	12	<input type="checkbox"/>	13	<input type="checkbox"/>	14	<input type="checkbox"/>	15	<input type="checkbox"/>	16	<input type="checkbox"/>	17	<input type="checkbox"/>	18	<input type="checkbox"/>	19	<input type="checkbox"/>	20	<input type="checkbox"/>
21	<input type="checkbox"/>	22	<input type="checkbox"/>	23	<input type="checkbox"/>	24	<input type="checkbox"/>	25	<input type="checkbox"/>	26	<input type="checkbox"/>	27	<input type="checkbox"/>	28	<input type="checkbox"/>	29	<input type="checkbox"/>	30	<input type="checkbox"/>

PORTUGUÊS

Supermercado na Alemanha colhe verduras plantadas na própria loja

Consumidores preocupados com sustentabilidade e consumo consciente preferem alimentos orgânicos, compram de pequenos produtores, escolhem produtos com embalagens menos nocivas ao meio ambiente e torcem o nariz para aqueles que precisaram viajar por horas para chegar às prateleiras. Pensando nisso, um supermercado de Berlim decidiu reduzir a distância entre os clientes e as plantações e cultivar verduras dentro da própria loja, instalando caixas modulares nas prateleiras onde planta verduras, rabanetes e ervas. No _____ do supermercado, todo o ambiente é controlado por computador: umidade, temperatura, nutrientes e exposição à luz. Sem terra e com técnicas hidropônicas, as plantas crescem mais rápido, mais fortes e com economia de fertilizantes e água.

<http://planetasustentavel.abril.com.br/noticia/desenvolvimento/...> - adaptado

1) Considerando-se as regras ortográficas em vigor, assinalar a alternativa que preenche a lacuna do texto CORRETAMENTE:

- a) micro jardim
- b) microjardim
- c) micro-jardim
- d) micro(jardim)

2) Segundo o texto, analisar os itens abaixo:

I - Os alemães são a nação mais preocupada com a sustentabilidade do planeta, consumindo apenas produtos orgânicos e de pequenos produtores.

II - As verduras plantadas dentro do supermercado de Berlim são criadas com técnicas artificiais, controladas por computadores. Sendo assim, não são passíveis de contaminação, mas são mais descartáveis.

- a) Os itens I e II estão corretos.
- b) Somente o item I está correto.
- c) Somente o item II está correto.
- d) Os itens I e II estão incorretos.

3) O antônimo de “nocivo” é:

- a) Prejudicial.
- b) Ruinoso.
- c) Proveitoso.
- d) Inconveniente.

4) O que significa a expressão “torcer o nariz”?

- a) Mostrar-se aborrecido, zangar-se.
- b) Ir chatear outra pessoa.
- c) Resolver um problema.
- d) Voltar atrás numa opinião.

5) Qual é o plural de “exposição”?

- a) Exposições.
- b) Exposições.
- c) Exposições.
- d) Expositivos.

6) Assinalar a alternativa que apresenta um adjetivo:

- a) Hidropônico.
- b) Umidade.
- c) Alimento.
- d) Sustentabilidade.

7) A divisão silábica está INCORRETA em:

- a) Am-bi-en-te.
- b) E-co-no-mi-a.
- c) Con-su-mo.
- d) Te-rra.

8) Assinalar a alternativa que apresenta uma palavra masculina plural:

- a) Técnicas.
- b) Consumidores.
- c) Horas.
- d) Nariz.

9) Considerando-se as regras ortográficas em vigor, assinalar a alternativa em que a palavra está escrita CORRETAMENTE:

- a) Microônibus.
- b) Micro-ônibus.
- c) Micrônibus.
- d) Micro ônibus.

10) Analisar os itens abaixo:

I - “Fertilizante” é o diminutivo de “fertilizar”.
II - “Ervário” é o aumentativo de “erva”.

- a) Os itens I e II estão corretos.
- b) Somente o item I está correto.
- c) Somente o item II está correto.
- d) Os itens I e II estão incorretos.

MATEMÁTICA

RASCUNHO

11) De acordo com o número na placa abaixo, assinalar a alternativa CORRETA:



- a) Uma unidade, três dezenas e nove centenas.
- b) Nove dezenas, três centenas e uma unidade.
- c) Três unidades, nove dezenas e uma centena.
- d) Três centenas, nove unidades e uma dezena.

12) Quantos são os números pares compreendidos entre 9 e 23?

- a) 4
- b) 7
- c) 10
- d) 14

13) Em determinada prova objetiva de concurso público, a quantidade de questões de português é o dobro da quantidade de questões de matemática. Sabendo-se que há 8 questões de matemática nessa prova, o total de questões de português deverá ser igual a:

- a) 10
- b) 12
- c) 16
- d) 18

14) Considerando-se os números decimais equivalentes às frações abaixo, numerar a 2ª coluna de acordo com a 1ª e, após, assinalar a alternativa que apresenta a sequência CORRETA:

- (1) $\frac{3}{5}$
- (2) $\frac{1}{2}$
- (3) $\frac{1}{5}$

- () 0,5
- () 0,6
- () 0,2

- a) 1 - 2 - 3.
- b) 3 - 2 - 1.
- c) 1 - 3 - 2.
- d) 2 - 1 - 3.

15) Assinalar a alternativa que apresenta o resultado da expressão numérica abaixo:

$$4 + 3 + 5 - 6$$

- a) 12
- b) 9
- c) 7
- d) 6

16) Sabendo-se que a passagem de ônibus municipal em determinada cidade é de R\$ 3,25 e que a partir da próxima semana passará a ser de R\$ 3,80, é CORRETO afirmar que haverá um:

- a) Aumento de 55 centavos no novo valor em relação ao valor antigo.
- b) Desconto de 65 centavos no novo valor em relação ao valor antigo.
- c) Aumento de 70 centavos no novo valor em relação ao valor antigo.
- d) Desconto de 55 centavos no novo valor em relação ao valor antigo.

17) De acordo com as unidades de medida, assinalar a alternativa INCORRETA:

- a) 1m^2 é equivalente a 1.000cm^2 .
- b) 2m são equivalentes a 200cm.
- c) 3 horas são equivalentes a 180 minutos.
- d) 4kg são equivalentes a 4.000g.

18) Determinado Servente deverá varrer ao todo 25 salas de aula em um único dia. Sabendo-se que 80% das salas de aula foram varridas no turno da manhã e que as restantes deverão ser varridas no turno da tarde, assinalar a alternativa CORRETA:





- a) Foram varridas 22 salas de aula no turno da manhã.
- b) Foram varridas 23 salas de aula no turno da manhã.
- c) Deverão ser varridas 6 salas de aula no turno da tarde.
- d) Deverão ser varridas 5 salas de aula no turno da tarde.

19) Assinalar a alternativa que apresenta o sucessor imediato do número 134:

- a) 132
- b) 135
- c) 133
- d) 136

20) Assinalar a alternativa que apresenta a próxima imagem da sequência lógica abaixo:



- a) 
- b) 
- c) 
- d) 

CONHECIMENTOS GERAIS E ESPECÍFICOS

21) São considerados crimes eleitorais, EXCETO:

- a) Vender o voto.
- b) Levar anotado o número e o nome dos candidatos da preferência do eleitor.
- c) Distribuir propaganda eleitoral no dia das votações.
- d) Votar no lugar de outro eleitor.

22) Quanto às práticas que colaboram para a preservação do meio ambiente, analisar os itens abaixo:

- I - Praticar a reciclagem.
- II - Economizar energia e água potável.

- a) Os itens I e II estão incorretos.
- b) Somente o item I está correto.
- c) Somente o item II está correto.
- d) Os itens I e II estão corretos.

23) Entende-se por limpeza concorrente o processo de limpeza:

- a) Anual.
- b) Semanal.
- c) Diário.
- d) Semestral.

24) Em relação à limpeza manual úmida, marcar C para as afirmativas Certas, E para as Erradas e, após, assinalar a alternativa que apresenta a sequência CORRETA:

- () Realizada com a utilização de rodos, *mops* ou esfregões, panos ou esponjas umedecidas em solução detergente, com enxágue posterior com pano umedecido em água limpa.
- () Panos e *mops* utilizados na limpeza devem ser encaminhados para lavagem e guardados úmidos por medidas de higiene e conservação.

- a) C - E.
- b) E - C.
- c) C - C.
- d) E - E.

25) Em relação aos materiais utilizados para a limpeza de teto, marcar C para as afirmativas Certas, E para as Erradas e, após, assinalar a alternativa que apresenta a sequência CORRETA:

- () Escada.
- () Água e rodo.
- () Pano sujo.

- a) E - C - C.
- b) C - C - E.
- c) E - C - E.
- d) C - E - E.

26) Para a limpeza de paredes em que a pintura é lavável, utiliza-se:

- I - Baldes, panos macios, luvas.
- II - Escova macia, solução detergente/desinfetante.

- a) Os itens I e II estão corretos.
- b) Somente o item I está correto.
- c) Somente o item II está correto.
- d) Os itens I e II estão incorretos.

27) Foi recomendado ao Servente que fizesse o descarte do lixo considerando-se as cores das lixeiras para a coleta seletiva. Com base nisso, assinalar a alternativa CORRETA:

- a) Garrafas PET → lixeira azul.
- b) Latas de refrigerante → lixeira vermelha.
- c) Resíduos orgânicos → lixeira marrom.
- d) Vidros → lixeira preta.

28) A coleta seletiva traz inúmeros benefícios sociais e ambientais para a cidade, como:

- I - Melhoria da limpeza da cidade e da qualidade de vida da população.
- II - Aumento da vida útil dos aterros sanitários.
- III - Inclusão social, com geração de emprego e renda para famílias carentes.

Estão CORRETOS:

- a) Somente os itens I e II.
- b) Somente os itens I e III.
- c) Somente os itens II e III.
- d) Todos os itens.

29) Assinalar a alternativa que NÃO apresenta um equipamento de proteção individual:

- a) Capacete.
- b) Protetor auricular.
- c) Luva.
- d) Exaustor.

30) Em relação às condições inseguras que comprometem a segurança do trabalhador, analisar a sentença abaixo:

Máquinas ou ferramentas defeituosas (1ª parte). Salas com iluminação adequada (2ª parte).

A sentença está:

- a) Totalmente correta.
- b) Correta somente em sua 1ª parte.
- c) Correta somente em sua 2ª parte.
- d) Totalmente incorreta.