

MONITOR DE EDUCAÇÃO

Escreva seu nome e número de inscrição de forma legível nos locais indicados:

Nome do(a) Candidato(a)

Nº de inscrição

Este caderno de questões está assim constituído:

| DISCIPLINAS | Nº QUESTÕES |
|--|-------------|
| Português | 10 |
| Matemática | 10 |
| Informática | 05 |
| Legislação, Conhecimentos Gerais e Específicos | 15 |
| Total de questões | 40 |

INSTRUÇÕES:

- Confira devidamente o material (CARTÃO DE RESPOSTAS e CADERNO DE QUESTÕES); se houver falha, solicite a substituição ao fiscal.
- Após conferir seus dados no cartão de respostas (NOME, Nº da INSCRIÇÃO e CARGO), assine no local indicado.
- O CARTÃO DE RESPOSTAS é o único documento de correção, devendo ser preenchido com bastante atenção, à caneta esferográfica, azul ou preta, ponta grossa, marcando uma única alternativa em cada questão.
- Verifique no cartão de respostas as instruções para preenchimento. Não rasure, não amasse nem dobre o CARTÃO DE RESPOSTAS; evite usar borracha. É vedada a substituição do CARTÃO DE RESPOSTAS decorrente de erro cometido por candidato.
- Se o CARTÃO DE RESPOSTAS contiver maior número de alternativas e/ou de questões, preencha apenas as correspondentes à sua prova; as demais ficam em branco.
- Durante a realização da prova, não é permitida a comunicação entre candidatos nem a utilização de máquina calculadora e/ou similares, livros, anotações, régua de cálculo, impressos ou qualquer outro material de consulta.
- O tempo de duração da prova objetiva será de **até 3 horas**.
- Ao final dos trabalhos, **DEVOLVA** ao Fiscal da sala, juntamente com o CARTÃO DE RESPOSTAS devidamente preenchido e assinado, o CADERNO DE QUESTÕES, tendo em vista a obrigatoriedade de arquivo no Município.
- A parte destacável no final desta capa, que serve para copiar as suas respostas, somente poderá ser destacada no ato da entrega do material na mesa do fiscal.
- Os três últimos candidatos de cada sala de prova deverão permanecer no recinto, a fim de acompanhar os fiscais até a coordenação para o lacre dos envelopes, quando, então, poderão retirar-se do local, simultaneamente, após concluído.
- Direitos autorais reservados à Objetiva Concursos Ltda. Proibida a reprodução, ainda que parcial, sem autorização prévia.

✂.....(dobre e destaque esta parte para copiar suas respostas).....

| | | | | | | | | | | | | | | | | | | | |
|----|--------------------------|----|--------------------------|----|--------------------------|----|--------------------------|----|--------------------------|----|--------------------------|----|--------------------------|----|--------------------------|----|--------------------------|----|--------------------------|
| 01 | <input type="checkbox"/> | 02 | <input type="checkbox"/> | 03 | <input type="checkbox"/> | 04 | <input type="checkbox"/> | 05 | <input type="checkbox"/> | 06 | <input type="checkbox"/> | 07 | <input type="checkbox"/> | 08 | <input type="checkbox"/> | 09 | <input type="checkbox"/> | 10 | <input type="checkbox"/> |
| 11 | <input type="checkbox"/> | 12 | <input type="checkbox"/> | 13 | <input type="checkbox"/> | 14 | <input type="checkbox"/> | 15 | <input type="checkbox"/> | 16 | <input type="checkbox"/> | 17 | <input type="checkbox"/> | 18 | <input type="checkbox"/> | 19 | <input type="checkbox"/> | 20 | <input type="checkbox"/> |
| 21 | <input type="checkbox"/> | 22 | <input type="checkbox"/> | 23 | <input type="checkbox"/> | 24 | <input type="checkbox"/> | 25 | <input type="checkbox"/> | 26 | <input type="checkbox"/> | 27 | <input type="checkbox"/> | 28 | <input type="checkbox"/> | 29 | <input type="checkbox"/> | 30 | <input type="checkbox"/> |
| 31 | <input type="checkbox"/> | 32 | <input type="checkbox"/> | 33 | <input type="checkbox"/> | 34 | <input type="checkbox"/> | 35 | <input type="checkbox"/> | 36 | <input type="checkbox"/> | 37 | <input type="checkbox"/> | 38 | <input type="checkbox"/> | 39 | <input type="checkbox"/> | 40 | <input type="checkbox"/> |

PORTUGUÊS

Um grande pacto pela sustentabilidade

Há muita expectativa para o possível novo acordo climático global que deverá ser firmado pelos quase 200 países membros das Nações Unidas, que se encontrarão em Paris, no final deste ano, durante a Conferência da ONU para as Mudanças Climáticas. Entretanto, todos sabem que ___ negociações serão difíceis, o consenso é quase impossível e talvez um acordo forte, como se espera, não aconteça.

Todavia, o acordo se faz necessário. “O problema das mudanças climáticas atingiu uma dimensão tão grande que parece que vale ___ pena insistir no âmbito da ONU. Em condições ideais, é o melhor foro, é melhor ter 200 países do que só um grupo fechado”, afirma Eduardo Felipe Matias, advogado e autor do livro “A humanidade contra as cordas”, lançado em 2014.

Apesar de defender as negociações oficiais da França, Matias ressalta que somente elas não serão suficientes para mudar o modelo econômico vigente, que não prioriza a sustentabilidade. Ele argumenta que seria preciso implementar um “círculo virtuoso da sustentabilidade”, conceito este que aparece em sua mais recente obra, citada acima.

O círculo seria composto por um conjunto de atores que, em paralelo ___ governança global, adotariam práticas mais sustentáveis e igualitárias – tanto nos setores sociais quanto econômicos e ambientais.

Na entrevista, ele explica como o círculo virtuoso seria uma espécie de grande pacto – descentralizado por meio de redes, coalizões e iniciativas individuais e coletivas. “Uma articulação entre as dez principais redes de supermercados do mundo, para só comprarem um determinado produto, para que tenham sua cadeia de valor sustentável, hoje tem mais força que um país de médio porte ou de porte até maior”, exemplifica.

<http://planetasustentavel.abril.com.br/blog/...> - adaptado

1) Assinalar a alternativa que preenche as lacunas do texto CORRETAMENTE:

- a) as - à - à
- b) as - a - à
- c) às - à - a
- d) às - a - a

2) Em conformidade com o texto, marcar C para as afirmativas Certas, E para as Erradas e, após, assinalar a alternativa que apresenta a sequência CORRETA:

- () Embora a expectativa para um novo acordo climático global seja grande devido à Conferência da ONU para as Mudanças Climáticas, que irá ocorrer ao final do ano, já se sabe que, dados os interesses políticos e econômicos dos quase 200 países membros das Nações Unidas, um acordo que vise à sustentabilidade está fora de questão.
- () Segundo Eduardo Felipe Matias, o modelo econômico em vigor não torna prioritária a sustentabilidade, e é preciso que se adotem práticas mais sustentáveis e de igualdade nos setores sociais, econômicos e ambientais.

- a) C - C.
- b) E - E.
- c) C - E.
- d) E - C.

3) Com base no contexto em que está inserido o termo sublinhado em “... implementar um “círculo virtuoso da sustentabilidade...”, pode-se inferir, pelo texto, que ele poderia ser substituído por:

- a) Eficaz.
- b) Corrupto.
- c) Devasso.
- d) Milagroso.

4) Em “O círculo seria composto por um conjunto de atores que, em paralelo...”, o termo “atores” possui sentido de:

- I - Farsante, que sabe fingir.
- II - Aquele que tem papel ativo em algum acontecimento.
- III - Aquele que desempenha um papel em peças teatrais, filmes, novelas etc.

Está(ão) CORRETO(S):

- a) Somente os itens I e II
- b) Somente o item I.
- c) Somente o item II.
- d) Somente o item III.

5) Ao pluralizar-se o termo sublinhado em “Ele cita o exemplo do urso marrom na Europa, que ‘agora praticamente só vive em regiões montanhosas, porque foi exterminado das áreas de várzea, mais densamente povoadas e mais acessíveis.’”, quantas outras palavras obrigatoriamente sofrerão flexão de número para fins de concordância?

- a) Cinco.
- b) Seis.
- c) Quatro.
- d) Três.

6) Quanto às vozes verbais, a oração “Deve-se implementar um círculo virtuoso da sustentabilidade.” está na voz passiva sintética. Como seria sua reescrita na voz passiva analítica?

- a) Implementa-se um círculo virtuoso da sustentabilidade.
- b) Um círculo virtuoso da sustentabilidade deveria ser implementado.
- c) Um círculo virtuoso da sustentabilidade deve ser implementado.
- d) Foi implementado um círculo virtuoso da sustentabilidade.

7) O sublinhado em “Em condições ideais, é o melhor foro, é melhor ter 200 países do que só um grupo fechado...” corresponde sintaticamente a:

- a) Adjunto adverbial.
- b) Predicado.
- c) Objeto indireto.
- d) Complemento nominal.

8) A vírgula em “As decisões dos partidos são, a favor dos governantes.” NÃO se justifica, pois:

- a) Não se separa o verbo do seu complemento.
- b) Há uma intercalação explicativa que necessita de mais uma vírgula.
- c) Há um vocativo antes, que é onde deveria estar essa vírgula.
- d) Não se admite vírgula para indicar elipse.

9) Quanto à colocação do pronome “-se”, analisar os itens abaixo:

- I - Sempre se deve ter em mente o conceito de sustentabilidade.
- II - As ações que propõem-se a discutir o tema devem ser bem elaboradas.

- a) Os itens I e II estão corretos.
- b) Somente o item I está correto.
- c) Somente o item II está correto.
- d) Os itens I e II estão incorretos.

10) Assinalar a alternativa que NÃO apresenta erro de regência:

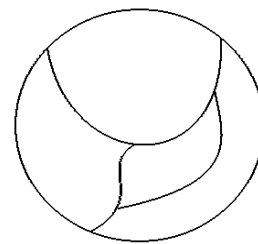
- a) Este é o candidato que o povo mais confia.
- b) Muitos assistiram o novo documentário do diretor húngaro na sessão especial.
- c) O comportamento do filho resultou em sua suspensão das aulas pela diretora do colégio.
- d) Aspirei o cargo e fiz por merecer minha nova colocação na empresa!

MATEMÁTICA

11) Qual é o capital que deve ser aplicado a uma taxa de juros de 2% ao mês sob regime de juros simples para que em meio ano renda um montante de R\$ 190.960,00?

- a) R\$ 169.000,00
- b) R\$ 170.500,00
- c) R\$ 170.000,00
- d) R\$ 169.500,00

12) Uma criança possui 4 lápis de cores diferentes. De quantas maneiras distintas ela pode pintar a figura abaixo, sabendo-se que cada região deve ser pintada de uma cor diferente?



- a) 24
- b) 26
- c) 28
- d) 16

13) No lançamento de dois dados não viciados, assinalar a alternativa que apresenta a probabilidade de que ambos caiam com o número dois voltado para cima:

- a) $\frac{2}{6}$
- b) $\frac{1}{6}$
- c) $\frac{4}{6}$
- d) $\frac{1}{36}$

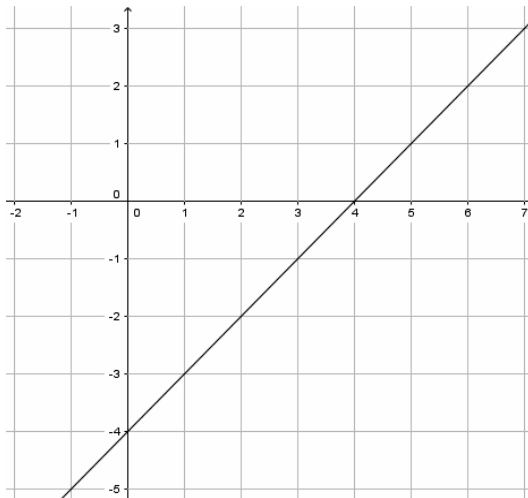
14) Dada a lista de números abaixo, analisar os itens que seguem:

7, 3, 3, 4, 20, 6, 9, 0, 2

- I - O número 20 é a mediana.
- II - O número 6 é a média aritmética.

- a) Os itens I e II estão corretos.
- b) Somente o item I está correto.
- c) Somente o item II está correto.
- d) Os itens I e II estão incorretos.

15) Com base no gráfico abaixo, assinalar a alternativa que apresenta $f(6)$:



- a) 2
- b) 3
- c) 4
- d) 5

16) Marcar C para as afirmativas Certas, E para as Erradas e, após, assinalar a alternativa que apresenta a sequência CORRETA:

- () $x(x - 4) = 9$ é uma equação do 2º grau.
- () As raízes da equação $x^2 - 9x + 14 = 0$ são 2 e -7.
- () O resultado da soma das raízes da equação $x^2 - 27 = -2$ é 10.

- a) C - C - E.
- b) E - C - C.
- c) C - E - E.
- d) E - C - E.

17) Considerando-se os conjuntos numéricos, analisar os itens abaixo:

- I - A soma de dois números irracionais sempre resulta em um número irracional.
- II - A soma de dois números racionais pode resultar em um número inteiro.

- a) Os itens I e II estão corretos.
- b) Somente o item I está correto.
- c) Somente o item II está correto.
- d) Os itens I e II estão incorretos.

RASCUNHO

18) Dado o sistema linear abaixo, assinalar a alternativa que apresenta o resultado da operação $2x - y$:

$$\begin{cases} x + y = 7 \\ 3x - y = 9 \end{cases}$$

- a) 2
- b) 3
- c) 4
- d) 5

19) Dada uma progressão geométrica cujo 1º termo é igual a 6 e o 6º termo é igual a 1.458, assinalar a alternativa que apresenta a razão dessa PG:

- a) 2
- b) 3
- c) 4
- d) 5

20) De acordo com a adição abaixo, assinalar a alternativa que apresenta o resultado de $x + y + z$:

$$\begin{array}{r} 13x7 \\ +2y6z \\ \hline 4192 \end{array}$$

- a) 15
- b) 16
- c) 17
- d) 18





INFORMÁTICA

Atenção! Para responder às questões de Informática, a menos que seja explicitamente informado o contrário, considerar que os programas mencionados encontram-se na versão Português-BR e, em sua configuração padrão de instalação, possuem licença de uso, o mouse está configurado para destros, um clique ou duplo clique correspondem ao botão esquerdo do mouse e teclar corresponde à operação de pressionar uma tecla e, rapidamente, liberá-la, acionando-a apenas uma vez. Dessa forma, as teclas de atalho, os menus, os submenus, as barras, os ícones e os demais itens que compõem os programas abordados nesta prova encontram-se na configuração padrão, conforme exposto anteriormente.

21) Em conformidade com a Cartilha de Segurança para Internet, em relação aos cuidados que o usuário deve tomar para tentar reduzir a quantidade de spams recebidos, assinalar a alternativa INCORRETA:

- a) Procurar filtrar as mensagens indesejadas, por meio de programas instalados em servidores ou em seu computador e de sistemas integrados a webmails e leitores de e-mails.
- b) Seguir links recebidos em spams e responder a mensagens desse tipo.
- c) Ser cuidadoso ao fornecer seu endereço de e-mail. Existem situações onde não há motivo para que o e-mail seja fornecido. Ao preencher um cadastro, por exemplo, pense se é realmente necessário fornecer o seu e-mail e se você deseja receber mensagens desse local.
- d) Utilizar as opções de privacidade das redes sociais (algumas redes permitem esconder o endereço de e-mail ou restringir as pessoas que terão acesso a ele).

22) No Painel de Controle do Windows 7 Professional, é possível escolher os programas que o Windows deverá usar para atividades como navegação na web, edição de fotos, envio de e-mail e reprodução de músicas, na opção:

- a)  Personalização
- b)  Programas Padrão
- c)  Programas e Recursos
- d)  Sistema

23) Com base na imagem abaixo que apresenta dois botões do Word 2007, analisar os itens que seguem:



- I - Ambos os botões possuem a função de aumentar o nível do recuo do parágrafo.
 II - O botão 1 possui a função de diminuir o nível do recuo do parágrafo.

- a) Os itens I e II estão corretos.
 b) Somente o item I está correto.
 c) Somente o item II está correto.
 d) Os itens I e II estão incorretos.

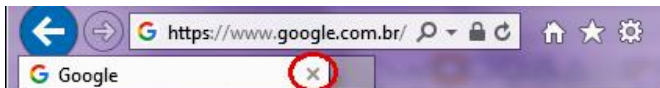
24) Considerando-se o Excel 2007 e com base nas figuras abaixo, analisar os itens que seguem:

| Figura 1 | | Figura 2 | |
|----------|---|----------|---|
| | A | B | |
| 1 | 1 | | 1 |
| 2 | 2 | | 2 |
| 3 | 3 | | 3 |
| 4 | 4 | | 4 |
| 5 | | | |
| 6 | | | |
| 7 | | | |
| 8 | | | |

- I - Se um usuário colocar o mouse sobre o ponto circulado na Figura 1, clicar, segurar e arrastar até a célula A8, os números que aparecerão nas células A5, A6, A7 e A8 serão, respectivamente, 1, 2, 3 e 4.
 II - Se um usuário colocar o mouse sobre o ponto circulado na Figura 1, clicar, segurar e arrastar em direção a célula B (Figura 2), os números que aparecerão nas células B1, B2, B3 e B4 serão, respectivamente, 5, 6, 7 e 8.

- a) Os itens I e II estão corretos.
 b) Somente o item I está correto.
 c) Somente o item II está correto.
 d) Os itens I e II estão incorretos.

25) Considerando-se o Internet Explorer 11, é CORRETO afirmar que o botão circulado na imagem abaixo serve para:



- a) Excluir o histórico.
 b) Fechar a guia.
 c) Fechar a janela.
 d) Interromper o carregamento da página.

LEGISLAÇÃO, CONHECIMENTOS GERAIS E ESPECÍFICOS

Atenção! Em todas as questões de legislação desta prova, serão consideradas as leis e suas alterações até a data do início das inscrições deste concurso.

Conhecimentos Gerais

26) Inúmeras são as fontes de energia disponíveis no nosso planeta, sendo que essas fontes se dividem em dois tipos, as fontes de energia renováveis e as não renováveis. Com base nisso, numerar a 2ª coluna de acordo com a 1ª e, após, assinalar a alternativa que apresenta a sequência CORRETA:

- (1) Fonte de energia renovável.
 (2) Fonte de energia não renovável.

- () Energia eólica.
 () Etanol.
 () Energia solar.

- a) 1 - 1 - 1.
 b) 1 - 2 - 1.
 c) 2 - 1 - 2.
 d) 2 - 2 - 2.

Legislação e Conhecimentos Específicos

27) Em conformidade com a Constituição Federal, a República Federativa do Brasil rege-se nas suas relações internacionais pelos seguintes princípios, entre outros:

- I - Não intervenção.
 II - Igualdade entre os Estados.
 III - Repúdio ao terrorismo e ao racismo.

Estão CORRETOS:

- a) Somente os itens I e II.
 b) Somente os itens I e III.
 c) Somente os itens II e III.
 d) Todos os itens.

28) De acordo com a Lei nº 8.069/90 - ECA, é dever do Estado assegurar à criança e ao adolescente, EXCETO:

- a) Ensino Fundamental, obrigatório e gratuito, inclusive para os que a ele não tiveram acesso na idade própria.
 b) Progressiva extensão da obrigatoriedade e gratuidade ao Ensino Médio.
 c) Atendimento em creche e pré-escola às crianças de um a oito anos de idade.
 d) Atendimento educacional especializado aos portadores de deficiência, preferencialmente na rede regular de ensino.

29) Com base no Regime Jurídico dos Servidores Públicos do Município, assinalar a alternativa que preenche a lacuna abaixo CORRETAMENTE:

_____ é a aceitação expressa das atribuições, dos deveres e das responsabilidades inerentes ao cargo público, com o compromisso de bem servir, formalizada com a assinatura de termo pela autoridade competente e pelo nomeado.

- a) Nomeação
- b) Posse
- c) Exercício
- d) Adaptação

30) Segundo o Regime Jurídico dos Servidores Públicos do Município, constituem indenizações ao servidor:

- a) Diárias e ajuda de custo, somente.
- b) Diárias, ajuda de custo e transporte.
- c) Ajuda de custo e transporte, somente.
- d) Transporte, somente.

31) De acordo com BOYNTON e BOYNTON, em relação à disciplina no ambiente escolar, analisar os itens abaixo:

- I - O estabelecimento de regras de conduta tem o mesmo objetivo e a mesma finalidade que o concebimento de um plano disciplinar, ou seja, é a mesma coisa.
- II - Um plano disciplinar é como uma política geral que especifica regras que serão aplicadas aos alunos, a todo o momento, em todos os lugares.
- III - As regras de conduta são como políticas que se aplicam exclusivamente a acontecimentos específicos da escola.

Está(ão) CORRETO(S):

- a) Somente o item II.
- b) Somente o item I.
- c) Somente os itens II e III.
- d) Todos os itens.

32) Segundo BOYNTON e BOYNTON, sobre as normas de conduta, é CORRETO afirmar que:

- a) É necessário discuti-las no início do ano escolar, durante os primeiros minutos de aula.
- b) Primeiramente, tais normas devem ser discutidas pelos professores regentes de classe. Quando todos chegarem a um consenso sobre as mais relevantes, devem, então, passá-las aos alunos.
- c) O consenso da equipe diretiva da escola é princípio básico para o cumprimento das regras de conduta.
- d) Deve-se esclarecer aos alunos quais padrões de comportamento são esperados nos vários lugares e nas diversas atividades de sala de aula da escola.

33) Sob a ótica de BOYNTON e BOYNTON, assinalar a alternativa que preenche a lacuna abaixo CORRETAMENTE:

A habilidade de _____ eficientemente é um dos instrumentos disciplinares mais poderosos de que o professor dispõe, assim como uma das melhores formas de prevenir que problemas disciplinares incipientes aumentem.

- a) conduzir debates entre os alunos
- b) discutir sobre o desempenho dos alunos
- c) monitorar o comportamento de seus alunos
- d) impor opiniões e de fazer críticas

34) De acordo com MOYLES, em relação ao brincar, marcar C para as afirmativas Certas, E para as Erradas e, após, assinalar a alternativa que apresenta a sequência CORRETA:

- () É um meio efetivo para estimular o desenvolvimento da linguagem.
- () Estimula o desenvolvimento de uma consciência metalinguística.
- () O brincar na escola é e deve ser muito diferente do brincar em casa.

- a) C - C - C.
- b) E - C - C.
- c) C - E - E.
- d) E - E - E.

35) Em consonância com MOYLES, a natureza das necessidades individuais faz com que um único cenário seja insuficiente para capturar sua inevitável variedade. Com base nisso, marcar C para as afirmativas Certas, E para as Erradas e, após, assinalar a alternativa que apresenta a sequência CORRETA:

- () Os professores têm de lidar, inevitavelmente, com as necessidades individuais no contexto do ambiente social mais amplo da sala de aula, e isso cria imensos desafios e dilemas.
- () Refletir sobre necessidades individuais sempre envolve examinar problemas e dificuldades.
- () As necessidades individuais das crianças só se tornam um problema maior quando trazem dificuldades e obstáculos à aprendizagem, ao divertimento, à concentração, etc., de outras crianças.

- a) C - C - E.
- b) E - C - C.
- c) E - E - E.
- d) C - C - C.

36) Em conformidade com CRAIDY, assinalar a alternativa que preenche a lacuna abaixo CORRETAMENTE:

A perspectiva teórica do(a) _____ destaca o papel do adulto frente ao desenvolvimento infantil, cabendo-lhe proporcionar experiências diversificadas e enriquecedoras às crianças a fim de que elas possam fortalecer sua autoestima e desenvolver suas capacidades.

- a) afetividade
- b) sociointeracionismo
- c) conhecimento
- d) personalismo

37) De acordo com CRAIDY, em relação à adaptação da criança à escola, analisar os itens abaixo:

- I - O distanciamento da família por longas horas do dia e a inserção em um novo ambiente, com rotinas específicas, exigirá da criança uma grande capacidade de adaptação.
- II - O processo de adaptação diz respeito apenas à criança.
- III - É preciso respeitar o ritmo de cada criança, bem como suas manifestações de medo e ansiedade.

Está(ão) CORRETO(S):

- a) Somente o item I.
- b) Somente o item II.
- c) Somente os itens I e III.
- d) Somente os itens II e III.

38) Sob a ótica de CRAIDY, marcar C para as afirmativas Certas, E para as Erradas e, após, assinalar a alternativa que apresenta a sequência CORRETA:

- () Por volta dos dois anos já é possível introduzir a caneca ou o copo na hora das refeições, em substituição à mamadeira.
- () Caso a criança se recuse a usar o copo ou a caneca, deve-se impor sua utilização, até tornar-se habitual.
- () Assim como as horas de sono, os momentos da alimentação são, para muitas crianças e professores/cuidadores, momentos de estresse e tortura.

- a) C - C - E.
- b) C - E - C.
- c) E - C - E.
- d) E - E - C.

39) Segundo CRAIDY, em relação à saúde em instituições de Educação Infantil, analisar os itens abaixo:

- I - Saúde envolve a busca do equilíbrio físico, mental e social, bem como a relação do indivíduo com o seu meio ambiente.
- II - Falar em saúde nas instituições de Educação Infantil implica promover, exclusivamente, ações de higiene.
- III - Questões preventivas e de acidentes devem ser trabalhadas separadamente, ou seja, não estão incluídas nas questões de saúde.
- IV - O conceito de criança saudável varia muito de acordo com as condições de vida e cultura das pessoas.

Estão CORRETOS:

- a) Somente os itens I e IV.
- b) Somente os itens II e III.
- c) Somente os itens III e IV.
- d) Somente os itens II, III e IV.

40) Conforme CRAIDY, são algumas das ações esperadas de crianças de quatro anos de idade, EXCETO:

- a) Realizar atividades motoras mais especializadas.
- b) Escovar os dentes e lavar as mãos sozinho.
- c) Repetir uma frase de 10 palavras.
- d) Vestir-se e desvestir-se.